

Dossier de travail

du 25 octobre au 29 octobre 2021



HALLOWEEN

Prénom : \_\_\_\_\_

Année : 3ème

Classe de Madame \_\_\_\_\_

DU + U / DU + ..... = D / DU + DU  
avec passage à la dizaine



Aide-toi des tunnels  
et des ponts!

# Des additions

Souvenirs,  
souvenirs!

Aide-toi  
des  
couleurs!

$$\begin{array}{l} 29 + 7 = 20 + 16 = 36 \\ 57 + 8 = 50 + 15 = 65 \\ 68 + 9 = 60 + 17 = 77 \end{array}$$

$$\begin{array}{l} 28 + 7 = 20 + 15 = 35 \\ 48 + 6 = 40 + 14 = 54 \\ 27 + 7 = 20 + 14 = 34 \end{array}$$



DU + ..... = D



Des faciles!

$$\begin{array}{l} 31 + \dots 9 \dots = 40 \\ 25 + \dots 5 \dots = 30 \\ 87 + \dots 3 \dots = 90 \end{array}$$

$$\begin{array}{l} 44 + \dots 6 \dots = 50 \\ 18 + \dots 2 \dots = 20 \\ 58 + \dots 2 \dots = 60 \end{array}$$



DU + ..... = D



Un peu plus difficile!  
Allez les champions!

$$\begin{array}{l} 12 + \dots 18 \dots = 30 \\ 25 + \dots 5 \dots = 40 \\ 15 + \dots 15 \dots = 30 \end{array}$$

$$\begin{array}{l} 37 + \dots 13 \dots = 50 \\ 10 + \dots 49 \dots = 60 \\ 34 + \dots 36 \dots = 70 \end{array}$$



DU + DU

$$\begin{array}{l} 57 + 18 = (50 + 10) + (7 + 8) = 75 \\ 29 + 19 = (20 + 10) + (9 + 9) = 48 \\ 47 + 49 = (40 + 40) + (7 + 9) = 96 \\ 13 + 47 = (10 + 40) + (3 + 7) = 60 \\ 61 + 19 = (60 + 10) + (1 + 9) = 80 \end{array}$$

Dessine les  
tunnels et les  
ponts. Tu  
éviteras de faire  
des erreurs!





D + U / D + D / D + DU

Chouette! Voilà un petit tableau à compléter!



↗ +	9	40	39	50	6	54	2	17
41	50	81	80	91	47	95	43	58

On termine en beauté!



On mélange

$$\begin{array}{r} 9 \\ 25 + 4 = 29 \end{array}$$

$$\begin{array}{r} 12 \\ 75 + 17 = 92 \\ 80 \end{array}$$

$$\begin{array}{r} 10 \\ 12 + 8 = 20 \end{array}$$

$$\begin{array}{r} 11 \\ 23 + 48 = 71 \\ 60 \end{array}$$

$$\begin{array}{r} 8 \\ 25 + 23 = 48 \\ 40 \end{array}$$

$$\begin{array}{r} 5 \\ 51 + 4 = 55 \end{array}$$



Avoir et être conjugués  
à l'indicatif présent

① Complète le tableau en conjuguant les verbes être et avoir à l'indicatif présent.

Etre	Avoir
Je <u>suis</u> gentil.	J' <u>ai</u> 8 ans.
Tu <u>es</u> poli.	Tu <u>as</u> un frère.
Elle <u>est</u> généreuse.	Elle <u>a</u> son anniversaire.
Nous <u>sommes</u> courageux.	Nous <u>avons</u> de chouettes livres.
Vous <u>êtes</u> attentifs.	Vous <u>avez</u> de la chance!
Ils <u>sont</u> patients.	Ils <u>ont</u> des animaux.

② Conjugue les verbes être et avoir à l'indicatif présent.

Tu (être) es heureux.

Nous (avoir) avons une farde de jeux.

Vous (être) êtes tristes.

Je (être) suis un champion.

J'(avoir) ai une jolie maison.

Ils (avoir) ont beaucoup d'animaux.

On (avoir) a du travail.

Tu (avoir) as un joli chien.

Nous (être) sommes courageux.

Elle (être) est jolie.

Elles (être) sont grandes.

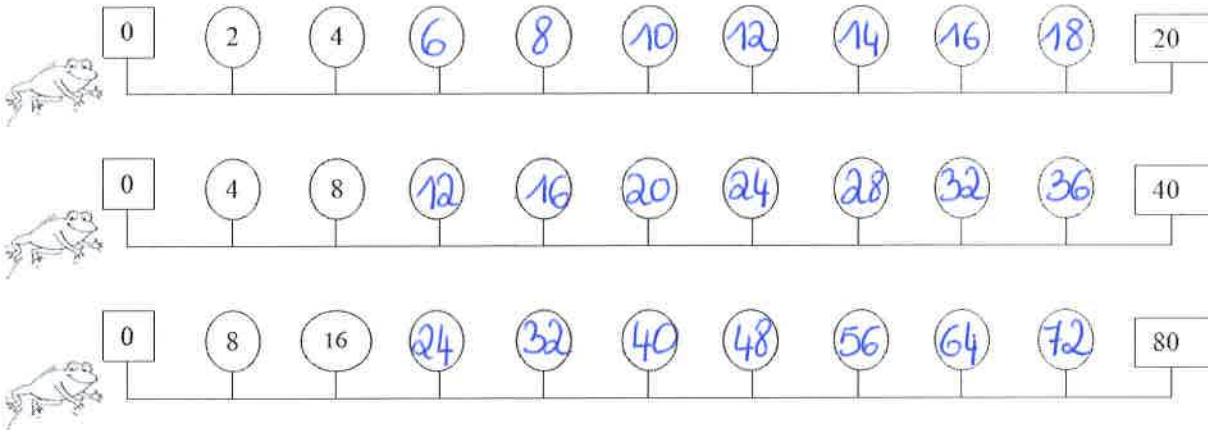
Vous (avoir) avez beaucoup de jeux.



# Numération

N

A. Dessine les bonds des grenouilles. Indique le nombre par lequel on compte. (+ ou - 2, 4, 8). Continue les comptages.



B. Résous les calculs. Ensuite, compare les résultats en utilisant <, > ou =

$4 \times 8 = 32$	$\dots > \dots$	$2 \times 4 = 8$
$8 \times 8 = 64$	$\dots > \dots$	$4 \times 8 = 32$
$8 \times 3 = 24$	$\dots = \dots$	$4 \times 6 = 24$
$2 \times 7 = 14$	$\dots > \dots$	$4 \times 3 = 12$
$8 \times 5 = 40$	$\dots = \dots$	$4 \times 10 = 40$
$2 \times 10 = 20$	$\dots = \dots$	$4 \times 5 = 20$
$8 \times 7 = 56$	$\dots > \dots$	$4 \times 9 = 36$
$4 \times 9 = 36$	$\dots > \dots$	$8 \times 1 = 8$
$8 \times 2 = 16$	$\dots = \dots$	$4 \times 4 = 16$
$8 \times 8 = 64$	$\dots > \dots$	$4 \times 10 = 40$
$2 \times 6 = 12$	$\dots > \dots$	$4 \times 2 = 8$
$8 \times 0 = 0$	$\dots < \dots$	$4 \times 1 = 4$
$8 \times 8 = 64$	$\dots > \dots$	$2 \times 2 = 4$



# Savoir écrire

## Règles d'orthographe

OG



Joue avec  
tes cartes !

### A ou à

Complète les phrases avec "a" ou "à".

Matthieu ...*a*... de nombreux jouets.

Mon voisin ...*a*... des colombes.

Ducobu ne veut pas aller ...*à*... l'école.

J'ai mal ...*à*... la tête.

On ...*a*... coupé la poire en deux.

Maman ...*a*... un nouveau sac.

Ils vont ...*à*... la fête sur la place.

La machine ...*à*... laver est cassée.

### ON / ONT

Complète les phrases avec "on" ou "ont".

...*on*... part demain matin.

...*ont*... - elles toujours raison?

Les touristes ...*ont*... pris des photos.

Tu sais qu' ...*on*... doit s'arrêter au stop.

Les plantes ...*ont*... besoin d'eau.

...*on*... ne sait pas où cela va nous mener.

Les dinosaures ...*ont*... disparu il y a longtemps.

Il va falloir qu' ...*on*... intervienne.

### ET / EST

Complète les phrases avec "et" ou "est".

Où ...*est*... Dorian?

Le chat miaule ...*et*... le chien aboie.

Ses cheveux sont bruns ...*et*... bouclés.

Ce dessin ...*est*... très beau.

Elle ...*est*... dans le salon.

Le livre ...*est*... vieux ...*et*... déchiré.

Naomie ...*et*... Serge font du vélo.

Le ciel ...*est*... sombre ...*et*... gris.

Relis ton  
travail!



ADDITION SANS ET AVEC  
passage à la dizaine



Aide-toi des tunnels  
et des ponts!

## Des additions

Connais-tu ta matière de 2ème année?

Souvenirs,  
souvenirs!



$5 + 9 = \underline{14}$

$8 + 7 = \underline{15}$

$8 + 8 = \underline{16}$

$9 + 9 = \underline{18}$

$7 + 7 = \underline{14}$

$8 + 9 = \underline{17}$

$10 + 8 = \underline{18}$

$6 + 6 = \underline{12}$

$7 + 4 = \underline{11}$

$8 + 6 = \underline{14}$

$12 + \underline{8} = 20$

$20 = 16 + \underline{4}$

$20 = 4 + \underline{16}$

$10 = 8 + \underline{2}$

$10 = 3 + \underline{7}$

$10 = 5 + \underline{5}$

$10 = 1 + \underline{9}$

$20 = 17 + \underline{3}$

$20 = 11 + \underline{9}$

$15 + \underline{5} = 20$

$12 + 5 = \underline{17}$

$21 + 45 = \underline{66}$

$57 + 40 = \underline{97}$

$87 + 1 = \underline{88}$

$21 + 23 = \underline{44}$

$82 + 4 = \underline{86}$

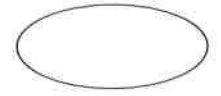
$53 + 4 = \underline{57}$

$23 + 17 = \underline{40}$

$57 + 7 = \underline{64}$

$23 + 7 = \underline{30}$

# Est-ce une phrase?



①

Il manque le point.

②

Il manque la majuscule.

③

La phrase n'a pas de sens.

④

La phrase est correcte.

Ecris le chiffre exact.

<p>roger mange dans le réfectoire.</p> <p>②</p>	<p>Ta voisine fait de la natation.</p> <p>④</p>	<p>Inès partage son goûter</p> <p>①</p>	<p>Le jeudi, nous allons au parc.</p> <p>④</p>
<p>La maîtresse écrit souvent au tableau.</p> <p>④</p>	<p>Le cerf tire sur le chasseur.</p> <p>③</p>	<p>Mangeons vite nous nos tartines.</p> <p>③</p>	<p>Notre classe est très jolie.</p> <p>④</p>
<p>Vite regardera Tommy la télévision.</p> <p>③</p>	<p>Nous sommes en classe.</p> <p>④</p>	<p>nous partirons en classe de mer.</p> <p>②</p>	<p>Bruxelles est la capitale de la Belgique.</p> <p>④</p>
<p>Ce chat joue avec la souris</p> <p>①</p>	<p>Philippe aime le karaté.</p> <p>④</p>	<p>Une piqûre gratte souvent le moustique.</p> <p>③</p>	<p>Papa te conduit au judo</p> <p>①</p>



# Le magasin d'Halloween



Chapeau 7 €



Sorcière 12 €



Squelette 13 €



Citrouille 10 €



Vampire 24 €



Diable 17 €



Balai de sorcière 3 €



Fantôme 14 €



Araignée 15 €



Gâteau Halloween ... €



Cornet de bonbons ... €





Lanterne 6 €





Potiron 4 €





J'achète	J'écris l'opération	Je paie
	$\begin{array}{r} 2 \times 15 \text{ €} \\ \hline \text{ou} \\ 15 \text{ €} + 15 \text{ €} \end{array}$	$\underline{30 \text{ €}}$

J'achète	J'écris l'opération	Je paie
	$\underline{13\text{€} + 17\text{€}}$	$\underline{30\text{€}}$

J'achète	J'écris l'opération	Je paie
	$\underline{4\text{€} + 4\text{€} + 4\text{€} + 4\text{€}}$ ou $\underline{4 \times 4\text{€}}$	$\underline{16\text{€}}$

J'achète	J'écris l'opération	Je paie
	$\underline{14\text{€} + 24\text{€}}$	$\underline{38\text{€}}$

J'achète	J'écris l'opération	Je paie
	$\underline{3\text{€} + 3\text{€} + 10\text{€}}$	$\underline{16\text{€}}$

J'achète	J'écris l'opération	Je paie
	$\underline{6\text{€} + 6\text{€} + 6\text{€} + 6\text{€}}$ ou $\underline{4 \times 6\text{€}}$	$\underline{24\text{€}}$





## La sorcière a froid aux pieds

La sorcière a froid aux pieds.

La sorcière a froid au nez.

La sorcière est enrhumée.

Je lui donne un mouchoir bleu:  
vite, elle ferme les yeux.

Je lui donne un mouchoir blanc:  
clic, elle claque des dents.

Je lui donne un mouchoir noir:  
elle éternue jusqu'au soir.

Je lui donne un mouchoir vert:  
PAF ! Elle tombe par terre.

Recopie la poésie de ta plus belle écriture et soigneusement.



La sorcière a froid aux pieds.

La sorcière a froid au nez.

La sorcière est enrhumée.

Je lui donne un mouchoir bleu :  
vite, elle ferme les yeux.

Je lui donne un mouchoir blanc :  
clic, elle claque des dents.

Je lui donne un mouchoir noir :  
elle éternue jusqu'au soir.

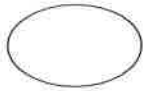
Je lui donne un mouchoir vert :  
PAF ! Elle tombe par terre.



Respecte la  
ponctuation et  
n'oublie pas les  
majuscules!

Savoir structurer l'espace

« gauche et droite »



Colorie les réponses exactes et réponds aux questions.



Sofiane

Camille

Naomie

Nathan

Timéo

Naomie est à gauche de Nathan.	non ou <u>oui</u>
Nathan tient son livre dans sa main droite.	<u>non</u> ou oui
Le sac de Camille est posé sur son côté droit.	<u>non</u> ou oui
Sofiane est à droite de Camille.	<u>non</u> ou oui
Qui est à gauche de Nathan?	Naomie
Qui est à droite de Nathan?	Timéo

Colorie la citrouille à gauche de la maison.



De quelle main l'enfant dessine-t-il?

De la main

gauche



Observe cette main.

S'agit-il d'une main gauche ou droite?

C'est une main

gauche



Observe cette main.

S'agit-il d'une main gauche ou droite?

Une main

droite

